









## Streichholzrätsel

|   |   |
|---|---|
|    |    |
| <p><b>Nimm 4 Streichhölzer weg, so dass du 5 gleich große Quadrate hast.</b></p>    | <p><b>Nimm 5 Streichhölzer weg, so dass du 5 Dreiecke hast.</b></p>                   |
|    |     |
| <p><b>Lege 4 Streichhölzer um, so dass du 11 Quadrate hast.</b></p>                 | <p><b>Lege 3 Streichhölzer dazu, so dass du 5 Dreiecke hast.</b></p>                  |
|  |  |
| <p><b>Lege 2 Streichhölzer um, so dass du 6 Quadrate hast.</b></p>                  | <p><b>Lege 4 Streichhölzer um, so dass du 3 Quadrate hast.</b></p>                    |
|  |   |
| <p><b>Nimm 5 Streichhölzer weg, so dass du 3 Quadrate hast.</b></p>                 | <p><b>Lege 4 Streichhölzer um, so dass du 4 neue Quadrate hast.</b></p>               |

## Mathematische Streichholzrechnungen



Lege 1 Streichholz um, so dass die Gleichung stimmt.



Lege 2 Streichhölzer um, so dass die Gleichung stimmt.



Lege 1 Streichholz um, so dass die Gleichung stimmt.

Viel Erfolg!